

Ujian Nasional SMP/MTs

@unsmmp.com

Prediksi Soal terdiri dari pelajaran :

- 1) Bahasa Indonesia: soal No. 1 s.d. 15
- 2) Matematika : soal No. 16 s.d. 30
- 3) IPA: soal No. 31 s.d. 45
- 4) Bahasa Inggris: soal No. 46 s.d. 60

@unsmmp.com

Prediksi Soal

Oleh Team Unsmmp.com

1

Prediksi Soal

Disusun oleh : Team unsmp.com

Prediksi Soal UN untuk setiap mata pelajarannya, hanya kami tampilkan 15 soal yang disertai dengan pembahasannya!

Team unsmp.com memandu siswa/siswi untuk memperoleh kesuksesan dalam ujian nasional. Kunjungi <http://unsmp.com> untuk mendapat materi pelatihan soal UN 2017.

1. Pengelola Taman Mini Indonesia Indah (TMII) memperkirakan sebanyak 400 ribu pengunjung hadir menjelang tahun baru 2009. Perkiraan ini dirasa tidak berlebihan mengingat mebludaknya pengunjung pada tahun lalu. Sebagai daya tarik pengunjung, pengelola menyiapkan berbagai acara hiburan dengan tema "Pesta Rakyat", di antaranya pesta kembang api.

Gagasan utama paragraf tersebut adalah...

- a. Pesta kembang api di TMII
 - b. Mebludaknya pengunjung TMII
 - c. Perkiraan jumlah pengunjung TMII
 - d. Daya tarik pengelola TMII
2. (1) Perayaan tahun baru yang berlangsung meriah di Jakarta meninggalkan sejumlah persoalan. (2) satu di antara persoalan tersebut adalah rusaknya sejumlah taman kota di Jakarta. (3) Kerusakan taman ini seperti terlihat di kawasan Monumen Nasional (Monas) Jakarta. (4) Hampir semua tanaman hias yang berada di area tersebut rusak akibat terinjak-injak ribuan pengunjung.

Kalimat utama paragraf tersebut ditandai dengan nomor....

- a. (1)
 - b. (2)
 - c. (3)
 - d. (4)
3. Toko ATK&kntr cr krywn, jjr, maks23th, pglmn-0821134567

Pernyataan yang tepat berdasarkan iklan di atas adalah....

- a. Toko ATK&ktr mencari karyawan yang jujur dan berpengalaman, usia maksimal 23 tahun
 - b. Toko ATK&ktr mencari karyawan yang jujur dan berpengalaman, usia maksimal 23 tahun
 - c. Toko ATK&ktr mencari karyawan, seorang perempuan yang jujur dan berpengalaman, usia minimal 23 tahun
 - d. Toko ATK&ktr mencari karyawan yang jujur, cantik, dan berpengalaman, usia maksimal 23 tahun
4. Kalimat penutup surat resmi yang tepat adalah....
 - a. Atas perhatian Anda saya haturkan terima kasih.
 - b. Atas partisipasi Saudara, saya mengucapkan banyak terima kasih.
 - c. Atas perhatian Saudara, saya mengucapkan terima kasih.
 - d. Demikian pemberitahuan ini, atas perhatian Saudara, saya mengucapkan terima kasih.
 5. Buku yang berjudul " *The Rich Plan : Setiap Orang Berhak Kaya*" karangan Supardi Lee merupakan buku panduan untuk mengubah pola hidup dan keuangan Anda lebih sehat dan sejahtera. Buku ini sangat cocok untuk dibaca karena bahasanya mudah dipahami.

Kalimat di atas termasuk bagian resensi dilihat dari....

- a. Kelemahan
- b. Kelebihan
- c. Isi
- d. Kata pengantar

6. **Graha Batununggal Indah**

- Lokasi strategis (1)
- Harga terjangkau (2)
- Kapasitas 2.500 Orang (3)
- Kapasitas parkir 550 mobil (4)

Fakta yang terdapat dalam iklan di atas adalah....

- a. 1,2
- b. 2,3
- c. 1,3
- d. 3,4

7. Kalimat pengumuman yang tepat adalah....

- a. Diberitahukan kepada seluruh siswa-siswi SMP Nurul Syifa agar mengikuti perlombaan membaca puisi yang akan dilaksanakan dalam rangka memperingati hari Kemerdekaan ke-68 RI, Sabtu 17 Agustus 2013, pukul 08.00 s.d. selesai.
- b. Harap seluruh siswa SMP Nurul Syifa mengikuti perlombaan membaca puisi yang akan diselenggarakan oleh OSIS SMP Nurul Syifa dalam rangka memperingati hari Kemerdekaan ke-68 RI.
- c. OSIS SMP NURul Syifa akan mengadakan perlombaan membaca puisi untuk siswa-siswinya dalam rangka memperingati hari Kemerdekaan ke-68 RI, di halaman sekolah.
- d. Kepada seluruh siswa SMP Nurul Syifa agar mengikuti perlombaan membaca puisi.

8. Masker wajah mempunyai banyak fungsi sesuai dengan jenisnya. Masker lumpur dapat mengurangi lemak. Masker coklat dapat melembabkan kulit wajah, Masker bengkoang dapat menghilangkan noda hitam dan membuat kulit wajah berseri.

Menggunakan masker wajah dapat menghaluskan dan menyehatkan wajah. Gunakan secara teratur untuk hasil yang maksimal. Pergunakan jenis masker sesuai dengan manfaat yang ingin kita peroleh.

Rangkuman bacaan tersebut adalah....

- a. Masker membuat kulit wajah berseri.
- b. Fungsi masker dan penggunaannya.
- c. gunakan masker sesuai dengan kulit
- d. masker lumpur mengurangi lemak.

9. Kata-kata yang tidak baku dalam paragraf di atas adalah....

- a. lembab, coklat
- b. bengkoang, coklat
- c. bengkoang, lembab
- d. bengkoang, masker

Bacalah paragraf di bawah ini untuk menjawab soal nomor 10 dan 11!

(1) Perjuangan Didi untuk masuk SMP favorit tidak sia-sia. (2) Dia selalu rajin belajar dan memahami isi setiap mata pelajaran yang di UN kan (3) Tak lupa ia selalu berdoa dan rajin melakukan ibadah lainnya sesuai dengan ajaran agamanya. (4) Orang tuanya sangat bahagia atas keberhasilannya.

10. Kalimat yang tepat untuk mengisi buku harian sesuai dengan ilustrasi di atas adalah....

- a. Didi rajin belajar dan berdoa sehingga perjuangannya untuk masuk SMP favorit tidak sia-sia. Sungguh Senang Didi.
- b. Sabtu, 24 Maret 2012
Saya sangat senang karena perjuangan saya untuk masuk SMP favorit tidak sia-sia. Orang tuaku bergembira.
- c. Sabtu, 24 Maret 2012
Saya selalu berusaha untuk membahagiakan orang tua agar bisa masuk SMP favorit.
- d. Sabtu, 24 Maret 2012
Saya sangat senang karena perjuangan saya untuk masuk SMP favorit tidak sia-sia. Rajin belajar dan berdoa selalu saya lakukan agar saya berhasil. Orang tua saya pun bahagia.

11. Kalimat yang ejaannya salah dalam paragraf di atas terdapat dalam kalimat

- a. Pertama
- b. Kedua
- c. Ketiga
- d. keempat

12. Tema :Meningkatkan prestasi belajar

Rumusan masalah yang sesuai dengan tema di atas adalah....

- a. Siapa sajakah yang prestasi belajarnya meningkat?
- b. Kapan kita dapat meningkatkan prestasi belajar?
- c. Bagaimanakah upaya meningkatkan prestasi belajar?
- d. Apakah dengan belajar dapat meningkatkan prestasi.

13. Supardi Lee mengarang buku yang berjudul "The Rich Plan: Setiap Orang Berhak Kaya", diterbitkan pada tahun 2007 di Bekasi oleh Pustaka Inti.

Penulisan daftar pustaka yang tepat adalah....

- a. Lee Supardi. 2007. *The Rich Plan: Setiap Orang Berhak Kaya*. Bekasi: Pustaka Inti.
- b. Lee, Supardi. 2007. *The Rich Plan: Setiap Orang Berhak Kaya*. Pustaka Inti: Bekasi.
- c. Supardi, Lee. 2007. *The Rich Plan: Setiap Orang Berhak Kaya*. Bekasi: Pustaka Inti.
- d. Lee,Supardi. 2007. *The Rich Plan: Setiap Orang Berhak Kaya*. Bekasi: Pustaka Inti.

14. Buah cempedak buah durian

Pergi ke Pekan naik sepeda

..... (1)

.....(2)

Larik yang tepat untuk melengkapi pantun di atas adalah....

- a. (1) Jangan ragu berbuat baik
(2) Senyum saja sudah ibadah
- b. (1) Pikir dulu sebelum bertindak
(2) Menyesal kemudian tiada guna
- c. (1) Supaya tidak sesal kemudian
(2) Diperlukan selalu sikap waspada
- d. (1) Mari kita jalin silaturahmi
(2) Untuk menambah sanak saudara

15. Mentari mulai terbit

Ucapkan salam selamat pagi

Burung-burung bernyanyi riang

Terbang (...)

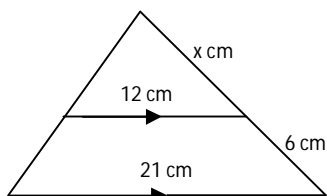
Pilihan kata (diksi) yang tepat untuk melengkapi puisi rumpang tersebut adalah....

- a. Di rumput hijau
- b. Pinggir sawah
- c. Jalan setapak
- d. Di angkasa raya

16. Sebuah mobil dengan panjang 2,4 m tampak di layar TV hanya 3 cm. Pada saat yang sama tinggi sebuah menara 7 cm. Tinggi menara sebenarnya adalah ...

- a. 4,8 m
- b. 5,6 m
- c. 6,4 m
- d. 7,2 m

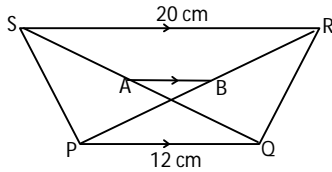
17.



Nilai x yang tepat adalah

- a. 6
- b. 7
- c. 8
- d. 9

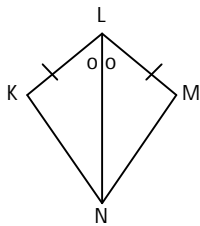
18. Perhatikan gambar di bawah ini!



Titik A dan B adalah berturut-turut tengah-tengah QS dan PR. Maka panjang AB adalah ...

- a. 4 cm
- b. 5 cm
- c. 6 cm
- d. 8 cm

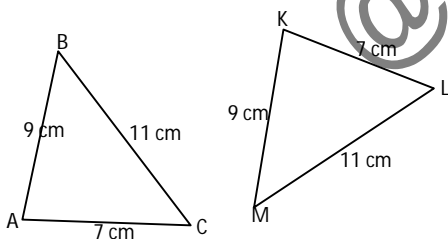
19. Perhatikan gambar!



Berdasarkan gambar di samping ini, $\triangle KLN \cong \triangle MLN$ karena memenuhi syarat segitiga kongruen yaitu

- a. Sudut-sisi-sudut
- b. Sudut-sudut-sisi
- c. Sisi-sudut-sisi
- d. Sisi-sisi-sudut

20. Perhatikan gambar $\triangle ABC$ yang kongruen dengan $\triangle KLM$!



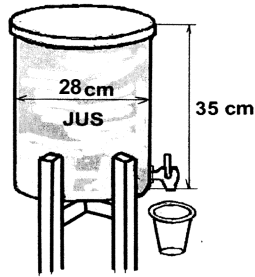
Pernyataan yang benar adalah ...

- a. $\angle A = \angle K$
- b. $\angle B = \angle L$
- c. $\angle C = \angle M$
- d. $\angle B = \angle M$

21. Sebuah tabung memiliki panjang diameter alas 70 cm. Jika tinggi tabung tersebut 1 m, maka volume tabung adalah

- a. 110 liter
- b. 385 liter
- c. 770 liter
- d. 1.540 liter

22. Tabung di bawah berisi jus buah. Tini memasukan jus tersebut ke dalam gelas dengan volume 110 ml.



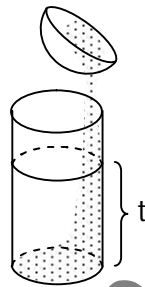
Berapa banyak gelas yang diperlukan Tini, agar jus di dalam tabung itu habis?

- a. 156 buah
- b. 168 buah
- c. 192 buah
- d. 196 buah

23. Sebuah kerucut memiliki jari-jari alas 7 cm dan tinggi 24 cm. Maka luas permukaan kerucut tersebut adalah

- a. 1408 cm^2
- b. 704 cm^2
- c. 682 cm^2
- d. 550 cm^2

24. Perhatikan gambar di samping ini!



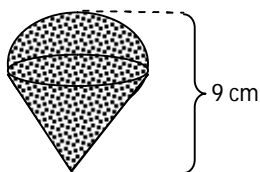
Sebuah tempat air berbentuk setengah bola yang panjang jari-jarinya 21 cm penuh berisi air. Seluruh air dalam setengah bola itu dituang ke dalam wadah berbentuk tabung yang panjang jari-jarinya sama dengan jari-jari bola. Tinggi air pada wadah adalah

- a. 7 cm
- b. 14 cm
- c. 21 cm
- d. 28 cm

25. Jika luas permukaan sebuah bola 154 cm^2 , maka jari-jari bola tersebut adalah ($\pi = \frac{22}{7}$)

- a. 3,5 cm
- b. 7 cm
- c. 14 cm
- d. 21 cm

26. Perhatikan gambar bandul timah di bawah ini !



Jika tinggi kerucut 6 cm, maka volume bandul itu adalah ...

- a. $12\pi \text{ cm}^3$
- b. $24\pi \text{ cm}^3$
- c. $36\pi \text{ cm}^3$
- d. $48\pi \text{ cm}^3$

27. Perhatikan tabel nilai ulangan Matematika di bawah ini !

Nilai	3	4	5	6	7	8	9
Frekuensi	4	5	11	8	9	2	1

Median dan modusnya adalah ...

- a. 5 dan 5,5
- b. 5,5 dan 5
- c. 6 dan 5
- d. 5,5 dan 9


28. Tabel berikut adalah data hasil ulangan matematika siswa kelas IX-A SMP 'Teladan'.

Nilai	Frekuensi
4	1
5	3
6	9
7	8
8	11
9	6
10	2

Siswa yang nilainya di bawah rata-rata diwajibkan remedial, maka banyaknya siswa yang **tidak remedial** adalah

- a. 8 orang
- b. 13 orang
- c. 19 orang
- d. 27 orang

29. Diagram di bawah ini menggambarkan hobi 400 siswa di suatu sekolah.



Banyak siswa yang hobinya bermain sepakbola ada ...

- a. 48 orang
- b. 64 orang
- c. 84 orang
- d. 120 orang

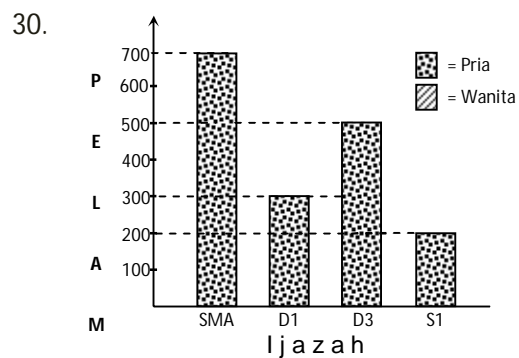


Diagram di atas menunjukkan tingkat pendidikan pelamar untuk bekerja pada sebuah perusahaan. Nilai meannya adalah ...

- a. 400 orang c. 450 orang
b. 425 orang d. 525 orang
31. Penggunaan zat kimia dalam makanan untuk memberikan cita rasa manis sebagai bahan pengganti gula pasir adalah....
a. Natrium benzoat dan asam sitrat
b. Asam sitrat dan sacharin
c. Natrium siklambat dan aspartam
d. Tartrazin dan sacharin
32. Zat adiktif yang diperoleh dari tanaman *Cannabis sativa* sehingga dapat menyebabkan mata merah, lemah, pengendalian diri menurun dan susah tidur adalah....
a. Ganja
b. Morfin
c. Caffein
d. Kodein
33. Sebuah tanaman putri malu disentuh oleh seseorang, kemudian tanaman tersebut menutupkan daunnya.



Percobaan tersebut membuktikan bahwa makhluk hidup memiliki ciri...

- a. menanggapi rangsang dan bergerak
b. menyesuaikan diri dan bergerak
c. mengalami pertumbuhan dan perkembangan
d. menanggapi rangsang dan menyesuaikan diri
34. Perhatikan tabel di bawah ini!

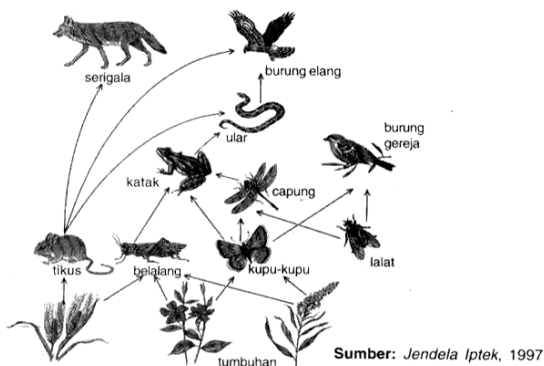
No	Makhluk hidup
1	Melinjo
2	Pakis haji

3	Mangga
4	Mengkudu
5	Pepaya
6	Rambutan

Makhluk hidup yang memiliki bunga sebagai alat perkembangbiakannya ditunjukkan oleh nomor....

- a. 1, 2 dan 3
- b. 1, 2 dan 4
- c. 2, 4 dan 5
- d. 3, 5 dan 6

35. Perhatikan gambar jaring-jaring makanan dibawah ini!



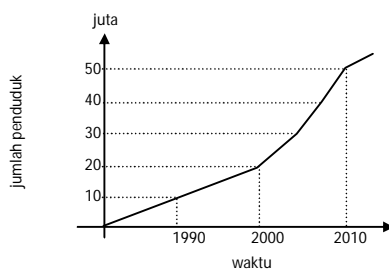
Jika ular banyak diburu oleh manusia kemungkinan yang terjadi adalah....

- a. Populasi serigala akan berkurang burung elang akan berkurang
- b. Populasi katak dan belalang akan bertambah
- c. Populasi kupu kupu dan belalang akan bertambah
- d. Populasi serigala dan tikus bertambah

36. Setiap musim hujan tiba, daerah Jakarta dan Bandung selalu menjadi daerah langganan banjir. Hal ini dikarenakan kurangnya daerah resapan air. Cara yang dapat diambil untuk mengatasinya adalah....

- a. membuat bendungan
- b. melakukan reboisasi
- c. membuat banyak sungai
- d. membuat saluran air besar

37. Perhatikan tabel dibawah ini!



Dari data tabel diatas, pertambahan jumlah penduduk dalam suatu daerah semakin meningkat setiap tahunnya sehingga berpengaruh terhadap kebutuhan perumahan. Akibatnya areal hutan dan daerah resapan air dijadikan areal pemukiman. Dari pernyataan diatas menunjukkan bahwa....

- a. Semakin banyak jumlah penduduk akan berpengaruh secara positif terhadap ekosistem
- b. Peningkatan jumlah penduduk akan berpengaruh pada kerusakan lingkungan
- c. Semakin banyak jumlah penduduk maka kualitas sumber daya manusia menjadi semakin baik
- d. Peningkatan jumlah penduduk tidak akan berpengaruh terhadap lingkungan karena areal hutan masih sangat banyak

38. Perhatikan gambar bagian rangka tengkorak manusia di samping!



Jenis persendian yang terdapat pada sambungan antar tulang tengkorak disebut....

- a. Amfiartrosis
- b. Sinartrosis
- c. Diartrosis
- d. Skoliosis

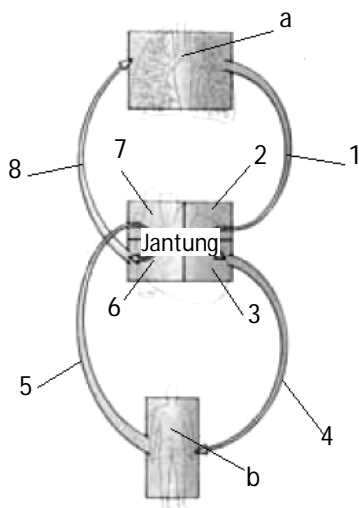
39. Hubungan yang tepat antara enzim, fungsinya dan tempat mencernanya dalam tabel berikut ini adalah

	Enzim	Fungsi
a.	Tripsin (Duodenum)	Menguraikan amilum menjadi maltosa
b.	Lipase (Usus kasar)	Menguraikan lemak menjadi asam lemak dan gliserol
c.	Pepsinogen (Lambung)	Menguraikan protein menjadi asam amino
d.	Pepsin (Lambung)	Menguraikan protein menjadi pepton

40. Bagaimanakah kedudukan otot diafragma dan tulang rusuk pada saat inspirasi? ...

- a. otot diafragma melengkung dan tulang rusuk terangkat
- b. otot diafragma melengkung dan tulang rusuk menurun
- c. otot diafragma mendatar dan tulang rusuk terangkat
- d. otot diafragma mendatar dan tulang rusuk menurun

41. Perhatikanlah gambar di bawah ini!

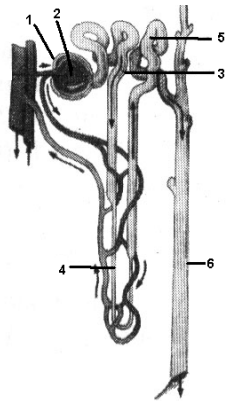


Sumber: Concise
Encyclopedia Nature, 1994

Urutan peredaran darah besar yang benar ditunjukkan oleh nomor....

- a. a-1-2-3-b
- b. 3-4-b-5-7
- c. b-5-6-7-a
- d. 6-8-a-1-2

42. Perhatikanlah gambar di bawah ini!



Tempat terjadinya filtrasi reabsorpsi dan augmentasi secara berturut turut ditunjukkan pada nomor....

- a. 1, 2 dan 5
- b. 2, 3 dan 5
- c. 3, 4 dan 5
- d. 4, 5 dan 6

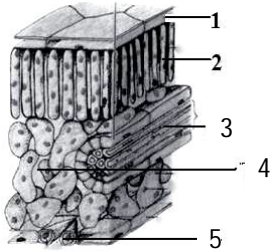
43. Perhatikan tabel dibawah ini!

No	Jalannya impuls
1	Saraf sensorik
2	Efektor
3	Otak
4	Saraf motorik
5	Sumsum tulang belakang
6	Reseptor (alat indera)

Urutan jalannya impuls (rangsang) pada gerak pada saat kita menarik tangan kita secara cepat karena tertusuk duri adalah

- a. 1 – 2 – 3 – 4 – 5
- b. 3 – 4 – 2 – 6 – 1
- c. 6 – 1 – 3 – 4 – 2
- d. 6 – 1 – 5 – 4 – 2

44. Perhatikanlah gambar di bawah ini!



Bagian jaringan tumbuhan yang berfungsi sebagai tempat pembuatan makanan adalah...

- a. 1 dan 2
 - b. 2 dan 4
 - c. 3 dan 5
 - d. 4 dan 5
45. Respon yang diberikan oleh tanaman *Mirabilis jalapa* (bunga pukul empat) saat intensitas cahaya matahari berkurang adalah....
- a. membuka polong bijinya
 - b. mengatupkan daun-daunnya
 - c. membuka mahkota bunganya
 - d. menggugurkan daunnya yang menguning

Read the text carefully then answer the questions number 46 to 48!

Mung bean porridge

Ingredients:

One cup of mung bean

4 tablespoonfuls of sugar

½ teaspoonful of salt

5 cups of water

Steps:

1. Wash the mung bean.
2. Boil the water.
3. Put the mung bean into the boiling water.
4. Let the mung bean become tender.
5. Add the salt and the sugar.
6. Simmer for 30 minutes.
7. Serve the mung bean porridge

46. Simmer for 30 minutes. What is the synonym of the underlined word?
- Stir
 - Mix
 - Put
 - Cook
47. How many ingredients do we need to make this Mung Bean Porridge?
- Two
 - Three
 - Four
 - Five
48. What do we do after putting the mung bean into the boiling water?
- Boil the water
 - Serve the mung bean porridge
 - Add the salt and the sugar
 - Let the mung bean become tender

The text is for number 49 to 52.

Buggy Races

Once upon a time there lived two best friends, the hare and the tortoise. They liked to race against each other, but the hare always won.

One day, the hare asked the tortoise to race down to the beach. The tortoise refused, he said that he will lose anyway. The hare replied in a kind voice that he felt sorry about it.

But the next day, the hare found a way to race the tortoise that would be fair and lots of fun too. He asked the tortoise to come with him. The tortoise was slowly plodding over the sand hill towards the beach. Now the two friends can race against each other all day and something tells me that the tortoise might win this time.

Adapted from 50 Bedtime Stories, 2002

49. What is the main idea of paragraph three?
- The tortoise won the race.
 - The hare always won the race.
 - The hare found the fun way to race his best friend fairly.
 - The tortoise refused to race.

50. '...that would be fair and lots of fun too.'

What is the antonym of the underlined word?

- Boring
 - Pleasure
 - Amusing
 - Exciting
51. What is the purpose of the text above?
- To retell past events to the readers.
 - To amuse the readers with the entertaining story.
 - To describe how sun eclipse can happen.
 - To give information about Javanese culture.

52. What is the function of paragraph one?

- a. Resolution.
- b. Complication.
- c. Orientation.
- d. Identification.

Read the text and answer questions 53 and 54.

Schedule of National Exam Seminar on "Key to Success in 2016 National Exam" 14th February 2016

Wahana Bhakti Pos, 8th Floor, Jalan Banda Bandung

07.00 – 08.00 a.m.	Re-registration
08.00 – 08.15 a.m.	Opening
08.15 – 08.30 a.m.	Welcome speech
08.30 – 10.00 a.m.	First session (by Mr. Drs. Asep Dewan, S.H. director of Asvci Education Consultant)
10.00 – 10.30 a.m.	Tea break
10.30 – 12.00 a.m.	Second session (by Ms. Dra. Enafa Dewanti, Educational Expert)
12.00 – 12.30	Discussion Session
12.30 – 12.40	Closing

53. What should the participants do first?

- a. Enter the seminar room
- b. Re-register
- c. Sharing problems
- d. Listen to the first speaker

54. From the text above, we know that ...

- a. The seminar will begin at 7.30 a.m.
- b. The seminar is divided into two sessions
- c. The seminar will be held in a day
- d. The participants may ask the speaker about the National exam key answer.

Read the text below and answer questions 55 and 56.

A Theatre

A theater is a place where people entertain the audience. The people, who perform, called actors and actresses, act in plays on a stage. A stage can be raised platform, or it can be part of the floor in a room, either in the center of the room or against a wall. The audience is a very important part of a theatre because it is for the audience that the actors and actresses act, and the playwright writes. Without an audience, they are only rehearsing or practising.

A theatre can be anywhere in home, school auditorium, park and a hall. Theatre means action. In this text theatre is used in connection with performances on stage by live actors and actresses. It is living theatre.

Theatre in the East differs greatly from that of the West. The Asian theatre is, for the most part, nonrealistic, or symbolic. Western theatre, on the other hand, tends to be realistic.

55. What is actor?
- A person who plays on stage.
 - A person who performs and acts in plays.
 - A man who acts in plays on a stage
 - A person who is playing at the theatre.
56. What is the main idea of paragraf 2?
- School auditorium is the only theatre.
 - The definition of theatre.
 - The performance of actors is theatre.
 - Theatre means action of actors.

Read the text for the questions number 57 until 59.

After the movie was over, I left the cinema quickly. My watch showed 11.30 p.m. as I got on to my bicycle. I pedalled hard on my bicycle and was soon speeding home. My thought went back to the movie I had just seen. It was a scary story. I could remember clearly a woman screaming as she was being attacked by a monster. Somehow that frightful scene stayed in my mind and I could not forget it.

The road was dark and quiet. I had to pass a graveyard on the way home. As I approached the graveyard, I heard some sounds behind me. I was frightened and began to cycle faster. The sound came nearer and nearer. Then I heard a familiar voice calling me. I looked back and saw Fauzan, my classmate. He had also seen the movie and was frightened too. He had cycled after me so that he would not be alone. Both of us laughed out loud over our behavior.

57. What time did the movie end?
- 11.30 a.m.
 - 13.30 p.m.
 - 11.30 p.m.
 - 13.30 a.m
58. Why did the writer begin to cycle faster?
- Because he was scared
 - Because he was late to come home
 - Because he saw his friend
 - Because he frightened his friend

59. What kind of movie did the writer watch?

- a. Romance
- b. Thriller
- c. Comedy
- d. Action

Read the text and answer questions No. 60

Thousands of people visit Pisa's famous tower each year and wonder just how much longer it can exist without falling.

Millions of dollars have been spent to stop the tower crashing to the ground. Soft, shifting soil has always been the tower's problem. Recently, it was discovered that the tower had moved two millimeters. This was a great setback because engineers had previously corrected about twenty millimeters of the lean by using an inventive underground cables idea to straighten the tower. Pisa would hate to lose its precious *Torre pendente* and the tourist dollars it generates.

Taken from Contextual Teaching and Learning 8th grade

60. What causes the tower to move?

- a. Soft shifting soil
- b. The tourists
- c. The underground cables
- d. The engineer ideas

@unsmp.com